









Wielomiany	Rozkład wielomianu na czynniki	GRUPA	IMIĘ I NAZWISKO
1. Rozłóż wielomian w na czynniki $w(x) = 2x^4 - 9x^3 - 5x^2$			Film: 
2. Rozłóż wielomian w na czynniki $w(x) = 5x^5 - 20x^3$			Film: 
3. Rozłóż wielomian w na czynniki $w(x) = 2x^3 - 12x^2 + 18x$			Film: 
4. Rozłóż wielomian w na czynniki $w(x) = -x^5 - 8x^2$			Film: 
5. Rozłóż wielomian w na czynniki przez grupowanie wyrazów $w(x) = 2x^3 - 6x^2 + 5x - 15$			Film: 

Wielomiany	Rozkład wielomianu na czynniki	GRUPA	IMIĘ I NAZWISKO
1. Rozłóż wielomian w na czynniki	$w(x) = 2x^3 - 3x^2 + x$		Film: 
2. Rozłóż wielomian w na czynniki	$w(x) = 6x^4 - 18x^2$		Film: 
3. Rozłóż wielomian w na czynniki	$w(x) = 3x^4 + 12x^3 + 12x^2$		Film: 
4. Rozłóż wielomian w na czynniki	$w(x) = x^6 + 216x^3$		Film: 
5. Rozłóż wielomian w na czynniki przez grupowanie wyrazów	$w(x) = 4x^3 + x^2 - 16x - 4$		Film: 